

සබරගමුව පළාත් අධ්‍යාපන දෙපාර්තමේන්තුව
சபரகமுவ மாகாணக் கல்வித் திணைக்களம்
Sabaragamuwa Provincial Department of Education

මධ්‍ය වාර්ෂික පරීක්ෂණය - 2015
 அரையாண்டுப் பரீட்சை 2015
 Mid Term Test 2015

06 ශ්‍රේණිය

தரம் 06

භූගෝල විද්‍යාව I, II
 புவியியல் I, II
 Geography I, II

පැය දෙකයි

இரண்டுமணித்தியாலம்

பாடசாலையின் பெயர்:..... தரம்:.....

மாணவர் பெயர்:..... சுட்டெண்

பகுதி- I

- எல்லா வினாக்களுக்கும்மான விடைகளை இந்த வினாப்பத்திரத்திலேயே எழுதுக.
- வினா இலக்கம் 01 முதல் 05 வரையான வினாக்களுக்கு எதிரேயுள்ள அடைப்புக்குறிக்குள் சரியாயின் (✓) எனவும்,பிழையாயின் (✗) எனவும் குறிப்பிடுக.

01. பெரிய நகரத்தில் கிராம சேவகர் அலுவலகர் பிரிவுகள் பல உண்டு (.....)
02. பதுளை மாவட்டம் மத்திய மாகாணத்திற்கு உரியது. (.....)
03. காற்றின் வேகமானது மணித்தியாலத்திற்கு கிலோ மீற்றர்களில் அளவீடு செய்யப்படும். (.....)
04. பிலிமத்தலாவை பித்தளைப் பொருட்களுக்கு பிரசித்தி பெற்றது. (.....)
05. புவியின் இயல்பு பிரதேசத்திற்கு பிரதேசம் வேறுப்படாது (.....)

(புள்ளிகள்: 2 x 5= 10)

- இலக்கம் 06 முதல் 10 வரையிலான வினாக்களுக்கு சரியான விடையை தெரிவு செய்து அதன் கீழ் கோடிடுக.

06. இலங்கையில் மிகப் பெரிய நிர்வாக அலகாக விளங்குவது.
- (i) மாகாணம் (ii) மாவட்டம்
 (iii) பிரதேச செயலாளர் பிரிவு (iv) கிராமசேவகர் பிரிவு
07. கிழக்கிற்கும் தெற்கிற்கும் இடையே அமைந்துள்ள திசை யாது?
- (i) வடகிழக்கு (ii) தென்கிழக்கு (iii) தென்மேற்கு (iv) வடமேற்கு
08. இரவில் நடமாடும் ஒரு பிராணி.
- (i) வெளவால் (ii) காகம் (iii) மஞ்சட் குருவி (iv) மைனா
09. அரசினால் இலவசமாக வழங்கப்படுகின்ற ஒரு சேவை.
- (i) வங்கி (ii) சுகாதாரம் (iii) போக்குவரத்து (iv) தபால்
10. சபரகமுவ மாகாணத்திற்கு உரித்தான இரண்டு மாவட்டங்கள் .
- (i) இரத்தினபுரி, அம்பாந்தோட்டை (ii) இரத்தினபுரி, பதுளை
 (iii) கேகாலை, குருநாகலை (iv) கேகாலை, இரத்தினபுரி

(புள்ளிகள்: 2 x 5= 10)

- இலக்கம் 11 முதல் 15 வரையிலான வினாக்களுக்கு இடைவெளிக்கு மிகவும் பொருத்தமான விடையை கீழே அடைப்புக் குறிக்குள் தரப்பட்டுள்ளதிலிருந்து தெரிவு செய்து எழுதுக.

(மட்பாதுகாப்பு, காற்று விசைமாணி, திசைக்காட்டி, வெப்பநிலை, நைதரசன்)

11. சரியான திசையை அறிந்துக் கொள்வதற்காக பயன்படுத்தப் படுகிறது.
12. வானிலை மூலங்களில் பிரதானமானது.
13. காற்றின் வேகத்தை அளவிடும் கருவி எனப்படுகின்றது.
14. கல்வேலி அமைப்பது முறைகளில் ஒன்றாகும்.
15. தாவர வளர்ச்சிக்கு வாயு அத்தியாவசியமாகும்.

(புள்ளிகள்: 2 x 5= 10)

- A நிரலினால் காட்டப்படும் விடயங்களுக்கு பொருத்தமானதை B நிரலில் இருந்து தெரிவு செய்து எதிரிலுள்ள அடைப்புக் குறிக்குள் அதற்கு பொருத்தமான ஆங்கில எழுத்தைக் குறிக்குக.

A

B

- | | | |
|------------------------------------|---------|----------------|
| 16. பொதுச் சேவையாகும் | (.....) | a. வைற்றோட்டம் |
| 17. தரைத் தோற்ற இயல்பாகும் | (.....) | b. செல்சியஸ் |
| 18. நீர் மாசடைதலின் விளைவாகும் | (.....) | c. வெசாக் |
| 19. வெப்பத்தை அளவிடும் அலகாகும் | (.....) | d. நதிகள் |
| 20. இலங்கையின் முக்கிய சமய நிகழ்வு | (.....) | e. வங்கி |

(புள்ளிகள்: 2 x 5= 10)

பகுதி II

- ஐந்து வினாக்களுக்கு மாத்திரம் விடைத் தருக.

01. (i). வானிலை என்றால் என்ன?

.....
.....

- (ii). பிரதான வானிலை மூலங்கள் நான்கைத் தருக.

- | | |
|---------|---------|
| 1. | 2. |
| 3. | 4. |

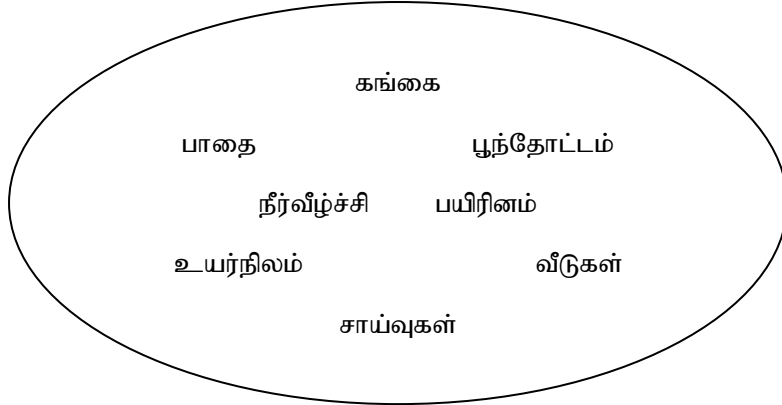
(iii) மழை வீழ்ச்சி ஏற்படும் செயல்முறையை படமொன்றின் மூலம் வரைந்து பெயரிடுக.

(படத்திற்கான இடம்)

02. (i). உமது பாடசாலை அயற் சூழலில் காணக்கூடிய தரைத் தோற்ற அம்சங்கள் 03 தருக.

1..... 2..... 3.....

(ii) கீழே தரப்பட்டுள்ள புவியியல் அம்சங்களை இயற்கையான அம்சங்கள் மனிதனால் உருவாக்கப்பட்ட அம்சங்கள் என வகைப்படுத்துக.



	இயற்கையான அம்சங்கள்	மனிதனால் உருவாக்கப்பட்ட அம்சங்கள்
I		
ii		
Iii		
iv		

(iii) நிலத்தின் முறையற்ற பயன்பாட்டினால் ஏற்படும் நிலமைகள் 05 தருக.

- 1.....
- 2.....
- 3.....
- 4.....
- 5.....

03. (i) பயிர்ச் செய்கைகளில் மனிதனுக்கு பிரயோசனமாகும் மிருகங்கள் 03 தருக.

1.....

2.....

3.....

(ii) விலங்குகளினால் சூழலுக்கும் மனிதனுக்கும் கிடைக்கக் கூடியதான பயன்கள் இரண்டு வீதம் எழுதுக.

சூழலுக்கான பயன்	மனிதனுக்கான பயன்
.....
.....
.....
.....

(iii) தாவரங்களினால் மனிதனுக்கு கிடைக்கக் கூடியதான பயன்கள் ஐந்தினை குறிப்பிடுக.

1..... 2.....



3..... 4.....

5.....

(4) (i) உங்கள் வீடு அமைந்துள்ள பிரதேசத்தில் வாழ்கின்ற மூன்று இனமக்களைக் குறிப்பிடுக.

1..... 2..... 3.....

(ii) இங்கு தரப்பட்டுள்ள இலச்சினைகள் எந்த சமயத்துக்குரியன என குறிப்பிடுக.



.....

(iii) நீங்கள் விரும்பும் சமயம் சார்ந்த விழா ஒன்று தொடர்பாக 5 வசனங்களை எழுதுக.

.....

.....

.....

.....

.....

(5) (i) இலங்கை விவசாய துறையில் உள்ளடக்கப்படும் பிரதான பிரிவுகள் மூன்றும் எவை?

1.....

2.....

3.....

(ii) A மற்றும் B பிரிவுகளை பொருத்தமான வகையில் தொடர்புபடுத்துக.

A

B

தென்னை பயிர்ச் செய்கை

கரையோர பிரதேசம்

நெற்செய்கை

மலையக பிரதேசம்

மீன்பிடி

சமவெளி பிரதேசம்

தேயிலை பயிர்ச் செய்கை

ஆற்றங்கரை பிரதேசம்

(iii) அடைப்புக் குறிக்குள் உள்ள சரியான சொற்களைத் தெரிவு செய்து கீழ் தரப்பட்டுள்ள

அட்டவணயிலுள்ள இடைவெளிகளை பூரணப்படுத்துக.

(வட பிரதேசம், ஈரவலயம், மத்திய மலைநாடு, கரையோரப் பிரதேசம், கீரை வகை, சோளம், பன்றி வளர்ப்பு)

பிரதேசம்	பயிர் வகை
உலர் பிரதேசம்	
	கரட்
களனி நதிக்கரை	
	மிளகு
	திராட்சை

(6) (i) களி மண்ணை உபயோகித்து மேற்கொள்ளப்படும் உற்பத்திகள் மூன்றினைக் குறிப்பிடுக.

1.....

2.....

3.....

(ii) குடிசைக் கைத்தொழில் நான்கினை பெயரிடுக.

1.....

2.....

3.....

4.....

(iii) கீழ் தரப்பட்டுள்ள பிரதேசங்கள் எவ் உற்பத்திக்காக முக்கியத்துவம் வாய்ந்ததாகக் காணப்படுகிறது?

மொரட்டுவ
அம்பலாங்கொட
றதாவடுன்ன
தும்பர
பிலிமத்தலாவ

(7) (i) நீரை உபயோகிக்கும் சந்தர்ப்பங்கள் மூன்றினைக் குறிப்பிடுக.

- 1.....
- 2.....
- 3.....

(புள்ளிகள் 03)

(ii) நீர் பற்றாக் குறையால் ஏற்படக் கூடிய பிரச்சினைகள் நான்கு தருக.

- 1.....
- 2.....
- 3.....
- 4.....

(புள்ளிகள் 03)

(iii) நீரை பாதுகாப்பதற்கு மேற்கொள்ளக் கூடிய நடவடிக்கைகள் ஐந்தினை எழுதுக.

- 1.....
- 2.....
- 3.....
- 4.....
- 5.....

(புள்ளிகள் 03)