

සබරගමුව පළාත් අධ්‍යාපන දෙපාර්තමේන්තුව

சபரகமுவ மாகாணக் கல்வித் திணைக்களம்  
Sabaragamuwa Provincial Department of Education

තුන්වන වාර පරීක්ෂණය - 2016  
மூன்றாம் தவணைப் பரீட்சை 2016  
Third Term Test - 2016

06 ශ්‍රේණිය  
தரம் 06  
Grade 06

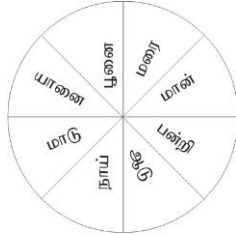
ඉගෙනීමේ විද්‍යාව I  
புயியியல் I  
Geography I

පැය දෙකයි  
இரண்டு மணித்தியாலம்  
Two Hours

❖ சகல வினாக்களுக்கும் விடையளிக்குக.

❖ பொருத்தமான விடையின் கீழ் கோடிடுக.

- 01) பின்வருவனவற்றுள் ஆற்றங்கரை யோரங்களில் பயிரிட பொருத்தமானது  
(i) தேயிலை (ii) தெங்கு (iii) நெற்பயிர்ச் (iv) இறப்பர்
- 02) சூரியன் உதிக்கும் திசையைப் பார்த்து இருகைகளையும் இரண்டு பக்கமும் நீட்டி நிற்கும் போது உங்கள் வலது கை தெற்குத்திசையைக் காட்டி நிற்கும். அப்படியாயின் அதற்கு நேரெதிராக உங்கள் இடது கை காட்டும் திசை  
(i) வடக்குத் திசை (ii) தெற்கு திசை  
(iii) மேற்கு திசை (iv) கிழக்குத் திசை
- கீழ் காணும் படத்தை அவதானித்து விடையளிக்குக.



- 03) පුරාතන කාලத்திலிருந்து மனிதனுடன் இணைந்து வாழும் பிராணிகள்.  
(i) யானை, ஆடு (ii) நாய், மாடு (iii) பூனை, பன்றி (iv) மாடு, மரை
- 04) மனிதனுக்கும், விவசாயத்திற்கும் பாதிப்பை ஏற்படுத்தும் விலங்குகளாவன  
(i) யானை, பன்றி (ii) நாய், பூனை  
(iii) மாடு, மரை (iv) ஆடு, பன்றி
- 05) இன்று காலை 9.00 மணியில் முடிவடைந்த 24 மணித்தியாலத்திற்குள் கூடிய வெப்பநிலை 32°C மன்னாரிலும் குறைந்த வெப்பநிலை 12°C நுவரெலியாவிலும் காணப்பட்டது. இத்தகவலின் படி நுவரெலியாவில் காணப்பட்ட காலநிலை  
(i) குளிர் - பனி காலநிலை (ii) மடைமுயான காலநிலை  
(iii) காற்றுடன் கூடிய காலநிலை (iv) வெப்பமான காலநிலை


- சரியான விடையை அடைப்புக்குள்ளிருந்து தெரிவு செய்க.  
(பிரம்பு உற்பத்திகள், கல்வி, செம்பருக்திப், சமதரை, ஆட்டிக்)

- 06) வீட்டுத்தோட்டத்தை பூச்சிகளினால் பாதுகாப்பதற்கு ..... பூச் செடிகள் வளர்க்கப்படும்
- 07) உலகின் பெரிய தீவான கீழ்நிலாந்து ..... சமுத்தரம் அருகில் அமைந்துள்ளது.
- 08) அரசு அனுசரணையுடன் இலவசமாக வழங்கப்படும் சேவை ..... ச் சேவை ஆகும்
- 09) ரடாவடுன்ன பிரதேசத்தில் காணப்படும் இயற்கை வளங்களைப் பயன்படுத்தி ..... மேற்கொள்ளப்படும்.
- 10) வீடு கட்டுவதற்கு ..... நிலம் உகந்தது.

- ◆ கீழே குறிப்பிட்ட கூற்றுக்கள் சரியாயின் (✓) எனவும் பிழையின் (x) எனவும் அடையாளப்படுத்துக.

- 11) மா, பலா நாவல் ஆகிய தாவரங்கள் விலங்குகள் மூலம் பரவுதல் அடையும் ( )
- 12) இந்தியா, அரேபியா ஆகிய நாடுகளில் பல்வேறு மக்கட் பிரிவினரின் வருகையால் மொழி மத, இனப்பிரிவுகள் இலங்கையில் தோற்றம் பெற்றன. ( )
- 13) தேவைக்கு ஏற்ப உணவு தயாரிப்பதன் மூலம் உணவு வீண்விரயம் அதிகரிக்கிறது ( )
- 14) மின்கட்டணத்தை குறைத்துக் கொவதற்கு தரமான CFL மின் குமிழ் தயாரிக்கப்பட்டுள்ளது. ( )
- 15) எதிர் காலத்தில் குடிநீர் தொடர்பாக உலகத்தில் பாரிய பிரச்சினைகள் ஏற்படலாம் ( )

- ◆ கீழ் காணும் படத்தை அவதானித்து விடை எழுதுக.



- 16) வேகமாக குறைவடைந்துச் செல்லும். அதிகமாக பயன்படுத்தும் கனிய வளம் ஒன்று எழுதுக.  
.....
- 17) அயற் சூழலில் தாவரங்கள் மூலம் பெற்றுக் கொள்ளக் கூடிய சக்திவளம் ஒன்று எழுதுக.  
.....
- 18) தற்கால மனிதன் சமையலுக்காக கூடுதலாக பயன்படுத்தும் சக்தி மூலகம் எது  
.....
- 19) சூழலின் வெப்பநிலை பேணுவதற்கும் ஒளியை பெற்றுக் கொள்வதற்கும் உதவுவது எது ?  
.....
- 20) வீட்டில் சில செயற்பாடுகளை இலகுவாக்குவதற்கு பயன்படுத்தப்படும் சக்திமூலகம் ஒன்று எழுதுக.  
.....

(2 x 20 = 40 புள்ளி)

සබරගමුව පළාත් අධ්‍යාපන දෙපාර්තමේන්තුව

சபரகமுவ மாகாணக் கல்வித் திணைக்களம்  
Sabaragamuwa Provincial Department of Education

තුන්වන වාර පරීක්ෂණය - 2016  
மூன்றாம் தவணைப் பரீட்சை 2016  
Third Term Test - 2016

06 ශ්‍රේණිය  
தரம் 06  
Grade 06

භූගෝල විද්‍යාව II  
புபியியல் II  
Geography II

පැය දෙකයි  
இரண்டு மணித்தியாலம்  
Two Hours

- ☀ முதலாம் வினா கட்டாயமானது.
- ☀ வேறு வினாக்கள் 4 ற்கு வடை எழுதுக.
- ☀ மொத்தம் ஐந்து வினாக்களுக்கு விடை எழுதுக.

01) வழங்கப்பட்டுள்ள தேசப்படத்தில் கீழ் குறிப்பிட்டுள்ள இடங்களை குறித்து பெயரிடுக.  
(கியூபா, அவுஸ்திரேலியா கண்டம், அத்திலாந்திக் சமுத்திரம், வங்காள விரிகுடா, பாக்கு நீரிணை.)




பல்வேறு பிரதேசங்களின் நிலத்தின் இயல்புகளைக் கொண்ட படம் கீழே காணப்படுகின்றது.  
A B C D E ஆகிய இடங்களுக்குப் பொருத்தமான நில இயல்புகளை அடைப்புக்குள்ளிருந்து தெரிவு செய்து எழுதுக.

(உயர் நிலம், கரையோரச் சூழல், சாய்வானபகுதி, சமவெளி, ஆற்றுப்பள்ளத்தாக்கு)



III உமது பிரதேசத்தில் பல்வேறு சேவைகளை வழங்குவோரின் படங்கள் கீழே காட்டப்பட்டுள்ளது. அவர்கள் வழங்கும் சேவை ஒன்று வீதம் எழுதுக.



	சேவை வழங்குவோரின் பெயர்	வழங்கும் சேவை
I		
II		
III		
IV		
V		

(2 x 5 = புள்ளி)

- 02) I கழிவு பொருட்கள் என்றால் என்ன ? (2 புள்ளி)  
 II கழிவுப் பொருட்களை ஒழுங்காக அகற்றும் வழி முறைகள் 2 எழுதுக. (2 புள்ளி)  
 III வீடு, மற்றும் பாடசாலைச் சூழலில் அகற்றப்படும் கழிவுப் பொருட்கள் கீழே வழங்கப்பட்டுள்ளது. அவற்றை வகைப்படுத்துக.  
 (கடதாசி காய்ந்து உதிர்ந்த இலைகள், சிரட்டைகள், பிளாஸ்டிக், மின் குமிழ், இரும்புத்துண்டுகள்)

விரைவில் உக்கக்கூடியவை	மீள் சுழற்சிசெய்யக் கூடியவை	பல்வேறு ஆக்கங்களை செய்யக் கூடியவை

(3 புள்ளி)


- iv) கழிவுப் பொருட்கள் மீள் சுழற்சி செய்வதன்மூலம் பெற்றுக் கொள்ளக்கூடிய பயன்கள் 3 எழுதுக. (3 புள்ளி)

- 03) I இலங்கையின் கலாசார முக்கியத்துவம் வாய்ந்த இடங்கள் கீழே காணப்படுகிறது. அவற்றின் பெயர்களை குறிப்பிடுக.



- II இயற்கை காடுகளில் வாழுகின்ற

- ◆ விலங்குகள்
- ◆ ஊர்வன
- ◆ பறவைகள் 2 வீதம் எழுதுக.



(3 புள்ளி)

- III இலங்கையில் உள்ள உள்ளாசப் பயணத்திற்கு ஏற்ற இடங்கள் இரண்டு குறிப்பிட்டு விளக்குக. (4 புள்ளி)

- 04) ஆகஸ்ட் விடுமுறைக்கு கண்டி தலதா பெரகரா பார்ப்பதற்கு சென்ற சிறுவர்களிடம் இடம் பெற்ற உரையாடல் ஒன்று கீழே வழங்கப்பட்டுள்ளது. அதனை வாசித்து கேட்கப்பட்ட வினாக்களுக்கு விடை எழுதுக.


- சுணில் : ஐயோ கண்டி தலதா பெரகரா காலத்தில் சரியான மழை. பெரகரா கூட பார்க்க முடியாது.
- மாலா : நாம் புகைவண்டியில் கம்பாஹவிலிருந்து கண்டிக்கு வந்தோம் வரும் வழியெல்லாம் மழை
- கமல் : அம்பாந்தோட்டையில் மழை இல்லை சில காலங்களில் குடிப்பதற்கு தண்ணீரும் இல்லை.

- I. மேலே குறிப்பிட்ட உரையாடலில் காணப்படும் வானிலை மூலகம் யாது (2 புள்ளி)
- II. இலங்கையின் கூடுதலான மழைவீழ்ச்சி பெறும் மாவட்டங்கள் 2 எழுதுக. (2 புள்ளி)

III. அம்பந்தோட்டை பிரதேசத்தின் நிலவும் காலநிலை தொடர்பாக 2 கருத்துகளை முன்வைக்குக. (2 புள்ளி)

IV. உமது பிரதேசத்தில் நீரை பெற்றுக் கொள்ளும் வழிமுறைகள் 4 எழுதுக. (4 புள்ளி)

05) I. கீழே குறிப்பிடப்பட்டுள்ள சமய குறியீடுகள் எந்த எந்த சமயத்திற்கு உரியவை என எழுதுக. (3 புள்ளி)



II. A நிரழில் குறிப்பிட்ட சமயங்களுக்குப் பொருத்தமான சமய பண்டிகைகள் B நிரழில் உள்ளன. பொருத்தமானவற்றை இணைக்குக.

A

பௌத்தம்

இந்து

கிறிஸ்தவம்

இஸ்லாம்

B

தைப்பொங்கல்

ரமழான்

வெசாக்

நத்தார்

(4 புள்ளி)

III. பல்வேறு இனமக்கள் ஒன்றாக ஒத்துழைப்புடன் செயல்படும் சந்தர்ப்பங்கள் 03 எழுதுக.

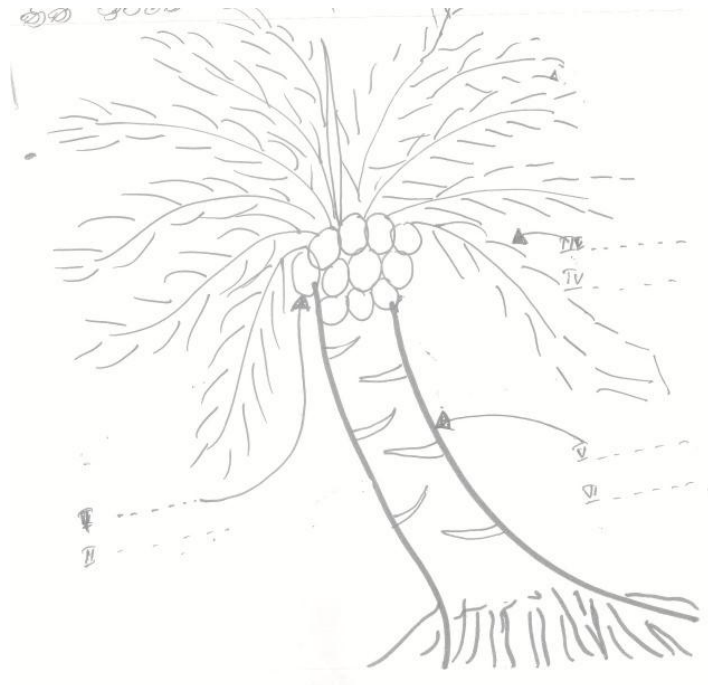
(3 புள்ளி)

06) I. கீழே உள்ள அட்டவணையில் கைத்தொழில் பொருட்கள் உற்பத்தி செய்யும் பிரதேசங்களை எழுதுக. (4 புள்ளி)

	கைத்தொழில்கள்	பிரதேசம்
A	மரத் தளப்பாடங்கள்	
B	முக மூடி	
C	பித்தளைப் பொருட்கள்	
D	பாய்கள்	

II மீன் பிடி துறையுடன் சம்பந்தப்பட்ட தொழில்கள் 03 எழுதுக. (3 புள்ளி)

III. கீழே காட்டப்பட்ட படத்தில் ஒவ்வொரு பகுதியிலும் உற்பத்தி செய்யப்படும் பொருட்கள் 02 வீதம் எழுதுக. (3 புள்ளி)



07)



படத்தை அவதானித்து விடை எழுதுக.

- I. ஒரு நாட்டின் சார்பு அமைவிடம் என்றால் என்ன? (3 புள்ளி)
  - II. A இலங்கைக்கு தென்கிழக்கில் அமைந்துள்ள தீவு .....
  - B இலங்கைக்கு அண்மையில் உள்ள நாடு .....
  - C இலங்கைக்கு மேற்கில் உள்ள கண்டம் .....
  - D இலங்கையைச் சுற்றியுள்ள சமுத்திரம் .....
- (4 புள்ளி)
- III. இலங்கை இந்தியாவுக்கு அண்மையில் அமைந்திருப்பதனால் இலங்கை காலநிலையில் ஏற்படுத்தும் தாக்கத்தினை குறிப்பிடுக. (3 புள்ளி)